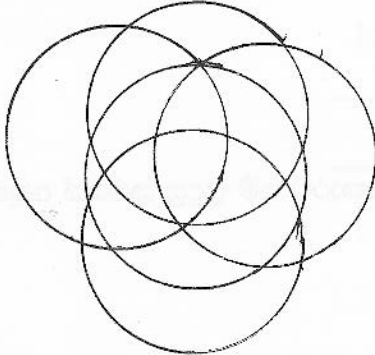




I කොටස

1) වෘත්තාකාර වස්තුවක් නම් කරන්න

2)



මෙහි ඇති වෘත්ත ගණන කියද?

3) හින්දු අරාබි ක්‍රමය අනුව සංඛ්‍යා ලිවීමේ දී භාවිත කරන ඉලක්කම් ගණන කියද?

4) 75308 යන සංඛ්‍යාවේ 7 න් නිරූපණය කරන අගය කියද?

5) ඔබ ඉගෙන ගත් සංඛ්‍යා කලාප ගණන කියද?

6) 503 475 008 162 වචනයෙන් ලියන්න

7) $25 + 178 + 3049 =$

8) $23584 - 17976 =$

9) $50300 \div 100 =$

10) මරලෝසු මුහුණතක සටහන් වී ඇති හත පසු වී මිනිත්තු හතලිස් දෙකයි තප්පර විසිතුන ඉලක්කමින් ලියන්න

11) $705 \times 20 =$

12) ප.ව 10.52 අන්තර් ජාතික සම්මත ක්‍රමයට ලියන්න

13) අඳ දිනය සම්මත ආකාරයට ලියන්න

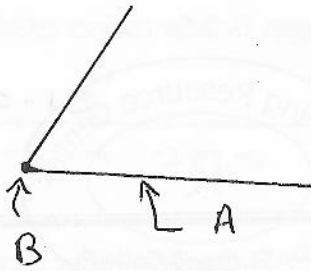
14) පැය 96 ට දින කියද?

15) -5 යන්න 3 ට වඩා කුඩාවේ මෙය අසමානතා මගින් නිරූපනය කරන්න

16) 1 හා -1 අතර ධන හෝ සෘණ නිඛිල නිඛිය හැකිද?

17) ආසන්න දහයේ ගුණාකාරයට වටසු වීට පිලිතුර 50 ලෙස ලබාගත හැකි සංඛ්‍යා 2ක් ලියන්න

18)



මෙම කෝණයේ A හා B මගින් නිරූපණය වන දේ ලියන්න

A -
B -

19) සෘජුකෝණයට වඩා විශාල වන කෝණ 2 ක් නම් කරන්න

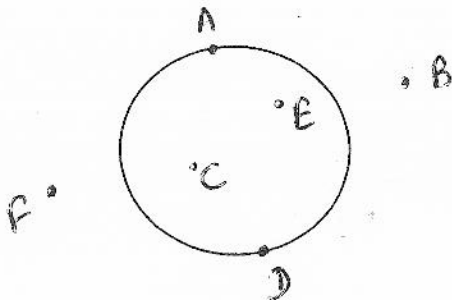
- a)
- b)

20) යම් ද්‍රව්‍ය සමූහයක ඇති ද්‍රව්‍ය සංඛ්‍යාව ගණන් කිරීමෙන් තොරව යම් සුදුසු ක්‍රමයක් අනුව ආසන්න වශයෙන් ප්‍රකාශ කිරීම කුමන නමකින් හැඳින්වේ ද?

II කොටස

ප්‍රශ්න සියල්ලටම පිළිතුරු සපයන්න

1)



1. ඉහත රූප සටහනට අනුව
 - i. වෘත්තය මත පිහිටි ලක්ෂ්‍යය 2 ක් නම් කරන්න
 - ii. වෘත්තය ඇතුළත පිහිටි ලක්ෂ්‍යය 2 ක් නම් කරන්න
2. පහත සංඛ්‍යා ආසන්න 10 ට වටයන්න
 - i. 35 -
 - ii. 14 -
3. හිස්තැන් පුරවන්න
 - i. $25 \times 10 = \dots\dots\dots$
 - ii. $130 \times \dots\dots\dots = 13000$
 - iii. $145000 \div \dots\dots\dots = 145$
 - iv. $528000 \div \dots\dots\dots = 5280$

2)

1. ඔබ ඉගෙන ගත් කලාප අනුව අනුපිලිවෙලට කලාප සියල්ල ලියන්න
2. 192 050 407 689 යන සංඛ්‍යාවේ
 - i. 2 යන ඉලක්කමින් නිරූපිත සංඛ්‍යාව ලියන්න
 - ii. 4 යන ඉලක්කමින් නිරූපිත සංඛ්‍යාව ලියන්න
3. 90421368507 මෙය කලාප අනුව වෙන්කොට ලියා වචනයෙන්ද ලියන්න

3) මෙම ගණන් සාදන්න

$ \begin{array}{r} 1. \\ 4347 \\ 8592 \\ + 301 \\ \hline \\ \hline \end{array} $	$ \begin{array}{r} 2. \\ 10856 \\ - 7974 \\ \hline \\ \hline \end{array} $	$ \begin{array}{r} 3. \\ 378 \\ \times 5 \\ \hline \\ \hline \end{array} $
$ \begin{array}{r} 4. \\ 253 \\ \times 26 \\ \hline \\ \hline \end{array} $	$ \begin{array}{r} 5. \\ 19 \overline{) 5769} \\ \hline \\ \hline \end{array} $	

4)

1. පහත දැක්වෙන වේලාවන් අන්තර් ජාතික සම්මත ක්‍රමයට ලියන්න
 - i. මධ්‍යම රාත්‍රී 12.00 –
 - ii. මධ්‍යහන 12.00 –
 - iii. ප.ව 1.30 –
 - iv. පෙ.ව 12.10 –
2. හිස්තැන් පුරවන්න
 - i. තප්පර 145 = මිනිත්තු තප්පර
 - ii. පැය 27 = දින පැය
 - iii. දින 2 = වරු පැය
3. ඔබ ඉගෙන ගත් කෝණ වර්ග අතුරින් කෝණ වර්ග 4ක් ලියන්න
 - i.
 - ii.
 - iii.
 - iv.

