


ද මැසිනොද් විදුහල, කඳාන
භූගෝල විද්‍යාව

පළමු වාර පරීක්ෂණය 2016



• නිවැරදි පිළිතුර තෝරා යටින් ඉරක් ඇඳින්න

1) පෘථිවි පරිභ්‍රමණයට ගතවන කාලය වන්නේ

- 1. දින 365
- 2. දින 366
- 3. දින 367
- 4. දින 364

2) පෘථිවියේ ධ්‍රැව විශ්කම්භය වන්නේ

- 1. 12757km
- 3. 13714km
- 2. 12714km
- 4. 12815km

3) ග්‍රීනිච් නගරය හරහා ඇඳ ඇති දේශාංශ රේඛාව වන්නේ

- 1. 180
- 2. 100
- 3. 0
- 4. 10

4) පෘථිවියේ ප්‍රදේශයන් වැසි ඇති ප්‍රමාණයේ ප්‍රතිශතය වන්නේ

- 1. 51%
- 2. 61%
- 3. 81%
- 4. 71%

5) තනි රටක් ලෙස හඳුන්වන මහද්වීපය වන්නේ

- 1. ඇමරිකාව
- 3. ආසියාව
- 2. අප්‍රිකාව
- 4. ඕස්ට්‍රේලියාව

6) පෘථිවියේ විශාලතම සාගරය වන්නේ

- 1. ඉන්දියන් සාගරය
- 3. පැසිපික් සාගරය
- 2. අත්ලන්තික් සාගරය
- 4. ආක්ටික් සාගරය

7) ශ්‍රී ලංකාවේ මුළු භූමියේ වර්ග ප්‍රමාණය වන්නේ

- 1. 63265km²
- 3. 62610km²
- 2. 65610km²
- 4. 64610km²

8) රාජ්‍යය මුහුදු සීමාවට අයත් නාවික සැතපුම් ගණන

- 1. නා සැතපුම් 12
- 3. නා සැතපුම් 9
- 2. නා සැතපුම් 11
- 4. නා සැතපුම් 10

9) මධ්‍යම කඳුකරයට අයත් භූ ලක්ෂණයක් නොවන්නේ

- 1. හෙල් වැටි
- 3. කපොලු
- 2. හිමින
- 4. සානු

10) ලංකාව ඉන්දියාවෙන් වෙන් වන පටු මුහුදු තීරයේ දුර ප්‍රමාණය වන්නේ

- 1. 32km
- 2. 34km
- 3. 31km
- 4. 42km

- සුදුසු වචන වරහන් තුළින් තෝරා හිස්තැන් පුරවන්න

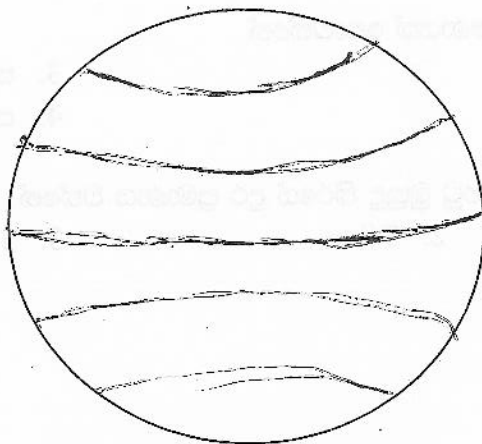
- 180 දේශාංශ රේඛාව හඳුන්වන්නේ ලෙසිනි
- රටක් අත්‍යන්තර ඇති මුහුදකි
- උතුරු අක්ෂාංශ 5 ක් 10 ක් අතර සමාන රට වන්නේ යි
- සාගරයකට සම්බන්ධ වූ මුහුදකි
- දකුණු ඇමරිකාවට අයත් රටකි
- ලෝකයේ ඇති මහද්වීප ගණන වන්නේ යි
- ලෝකයේ ඇති සාගර ගණන වන්නේ යි
- රටක පිහිටීම අක්ෂාංශ දේශාංශ අනුව පැවසීම පිහිටීමයි
- සාගර හා මහද්වීප පදනම් කර ගෙන රටක පිහිටීම දැක්වීම පිහිටීමයි
- ලංකාවේ භූ විෂමතා කලාප කි

(අරාබි මුහුද, ශ්‍රී ලංකාව, ජාත්‍යන්තර දින රේඛාව, කැස්පියන් මුහුද, ඔසිලය, සාපේක්ෂ පිහිටීම, නිරපේක්ෂ පිහිටීම, 7, 5, 3)

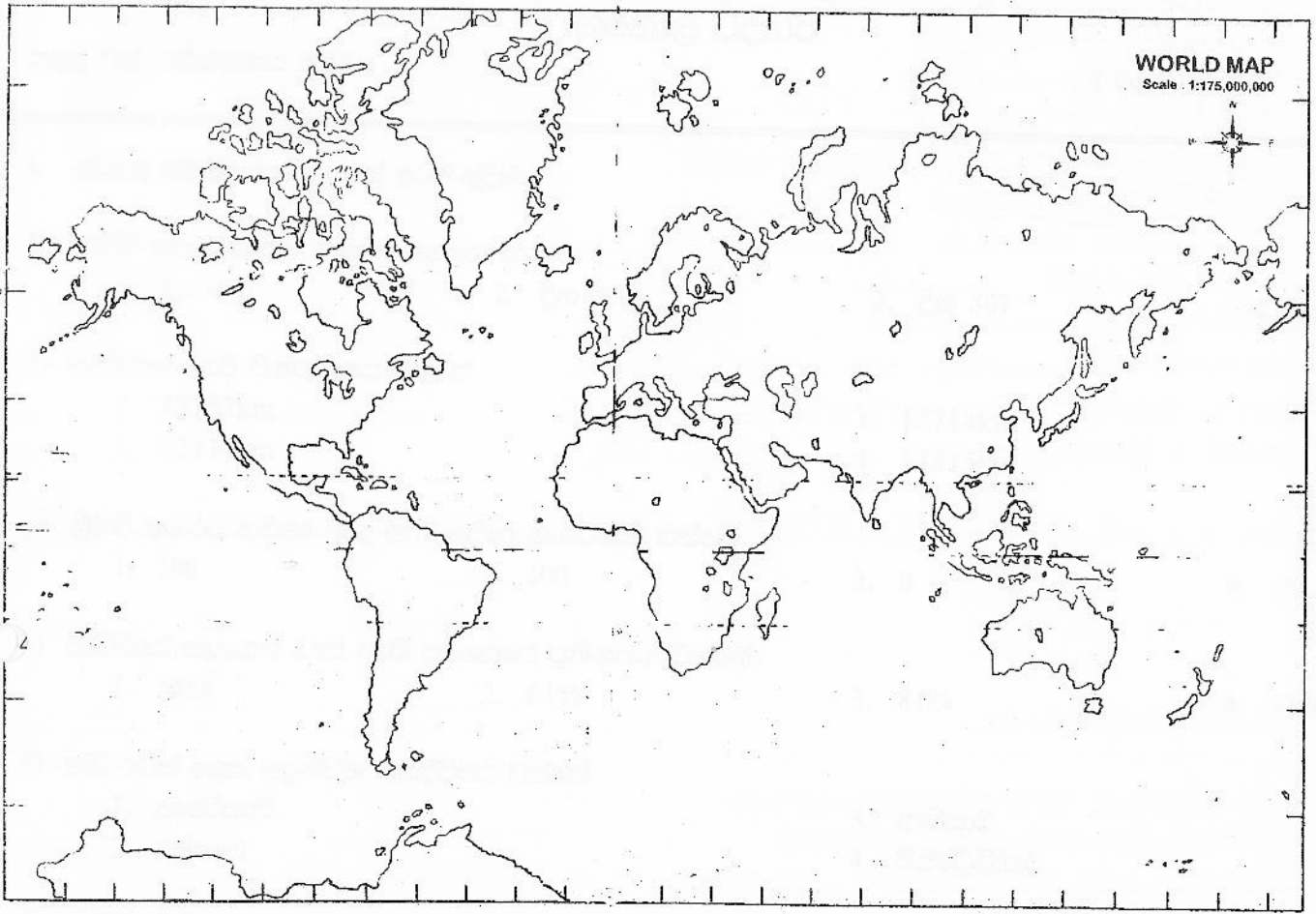
II කොටස

ප්‍රශ්න සියල්ලටම පිළිතුරු සපයන්න

1. පෘථිවි භ්‍රමණය හා පෘථිවි පරිච්ඡේදනය හඳුන්වන්න
2. පෘථිවි ගෝලාකාර බවට සාක්ෂි 2 ක් ලියන්න
3. අක්ෂාංශ හා දේශාංශ හඳුන්වන්න
4. ලංකාවට වයඹ දෙසින් පිහිටි උපත් 2 ක් නම් කරන්න
5. ශ්‍රී ලංකාවට වර්ෂාව ලැබෙන ක්‍රම 3 හ නම් කරන්න
6. ප්‍රධාන භූ විෂමතා කලාප නම් කරන්න
7. වෙරළ බඩ භූ ලක්ෂණ 2 ක් දක්වන්න
8. හිස්තැන් පුරවන්න
 ශ්‍රී ලංකාව උතුරින් මහද්වීපය ද දකුණින් සාගරය ද
 නැගෙනහිරින් රටවල් ද බටහිරින් මහද්වීපය ද
 පිහිටා ඇත
9. පහත රූපයේ ඇති අක්ෂිංශ හඳුන්වා ඊට අදාළ අගයන් දක්වන්න



10. පහත සටහනේ සිහින් හා ඔහුරු රේඛා නම් කරන්න



11. ලංකාවේ දිග හා පළල ලකුණු කර නම් කරන්න. අඟහේදු ලකුණු

