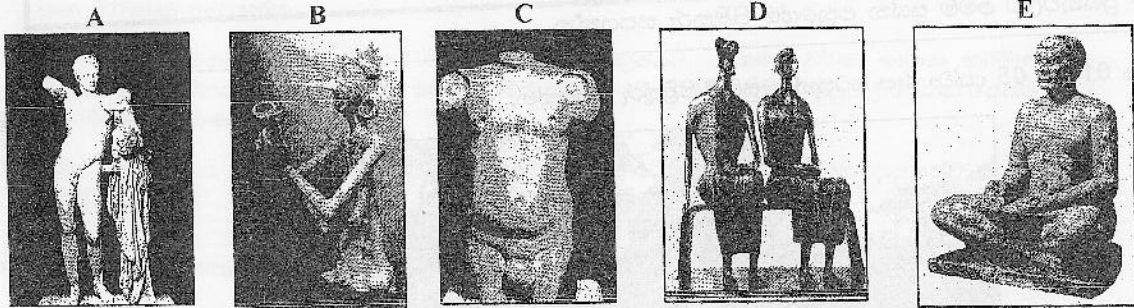




9. උත්තර වෛකය, අභය, අධාරි, හයාරි නමින් හඳුන්වන ධාන්‍යාකාර හැඩයෙන් යුත් ස්තූපය නම් කරන්න.

10. සිගිරි කාන්තා රූප මගින් දිව්‍ය අප්සරාවන් නිරූපනය වන බව ..... මහතා ප්‍රකාශ කරන්නේ ඉතෙන් පහල වලාකුළුවලින් වැසී ඇති අයුරින් නිරූපණය කිරීම ත් හා මවුන් අත මල් දරා සිටින අයුරින් නිරූපණය කිරීමත් ස් යන කරුණු පදනම් කරගෙනය.

• ප්‍රශ්න අංක 11 සිට 15 දක්වා රූප සටහන් ඇසුරින් පිළිතුරු සපයන්න. නිර්මාණයට අදාළ ඉංග්‍රීසි අක්ෂරය සමග නම් සඳහන් කරන්න.



11. ශිව දෙවියන්ගේ මූලාදර්ශයක් යැයි සැලකෙන නිර්මාණය වන්නේ.....
12. ප්‍රතිමා වෙලස් නම් ශිල්පියා විසින් නිර්මාණය කරන ලද දැනට ග්‍රීසියේ ඔලිම්පියා කෞතුකාගාරයේ තැන්පත්කර ඇති නිර්මාණය වන්නේ .....
13. කදුලෙන් තෙත්ව ගිය ස්භාවික පෙනුම ලබාගැනීමට ඇස් සඳහා ක්‍රිස්ටල් නමැති පාෂාණ විශේෂයක් භාවිතා කල නිර්මාණය වන්නේ.....
14. ස්වභාවික වාදී මිනිස් ස්වරූපයක බාහිර හා කායික ව්‍යුහයට වඩා අභ්‍යන්තර හැසීමේ නිරූපණය කල හැකි යතාර්ථවාදී ශෛලිය ලක්ෂණ සහිත හැඩතල මෙම මූර්තියෙන් නිරූපණය කරයි.....
15. පොළොන්නරු යුගයට අයත් ලෝහ වාක්තු ක්‍රමය අනුව කරන ලද නිර්මාණයකි.....

• අංක 16 සිට 20 තෙක් ඇති එක් එක් ප්‍රශ්නයට වඩාත් නිවැරදි පිළිතුර තෝරා, ඊට යටින් ඉරක් අඳින්න.

16. අනුරාධ පුර යුගයට අයත් පිළිම අතරින් ධර්ම දේශනා කරන ස්වරූපයක් දැක්වෙන ප්‍රතිමාව වනුයේ
 

(I) අවිකත බුද්ධ ප්‍රතිමාවයි	(III) සමාධි
(II) පන්කුලිය	(IV) නොගුච්ච
17. පහත යහන්දහන් සිතුවම් අතරින් ජාතික කලාභවතේ ප්‍රදර්ශනයට තබා ඇති සිතුවම් සහිත පිළිතුර වන්නේ.
 

(I) යකදුරාගේ දියණිය, විරැකියාව, කුඹල් හල, ගඩලාදෙණිය,
(II) ගඩලාදෙණිය, උළු පෝරණුව, විරැකියාව, පෙරහැර, කුඹල් හල
(III) පේරුසෙලමට ඇතුළුවීම, ගඩලාදෙණිය, යකදුරාගේ දියණිය, විරැකියාව
(IV) පෙරහැර, උළු පෝරණුව, කුඹල් හල, ගඩලාදෙණිය
18. පිකාසෝගේ අවිශ්නොන් හි යුළුකියෝ සිතුවමින් ප්‍රකාශ කෙරෙනුයේ
 

(I) කාන්තාවන් පස්දෙනෙකු පිලිබඳ තොරතුරුය.
(II) බාසිලෝනා නගරයේ සුන්දර කාන්තාවන් ගැනයි.
(III) සුරූපි කාන්තාවන් අතර සිටින විරූපි කාන්තාවන්ය.
(IV) අභිසාරිකාවන්ගේ බාහිර ස්වරූපය හා අභ්‍යන්තර බෙදවාඩකය ය.

19. ගල් විහාරය සම්බන්ධයෙන් ඇති සාවද්‍ය ප්‍රකාශය වනුයේ

- (I) මහායාන කලා ලක්ෂණ ඉස්මතුව පෙන්වේ
- (II) ඒකාංශ කරන ලද ඇඟට නොඇලුණු විවරයේ රැළි සමාන්තර දිත්ව රේඛා කරණයෙන් යුක්තය.
- (III) පොළොන්නරු යුගයට අයත් මෙම විහාරය පැරකුම් රජු විවිසින් කරවන ලද්දකි.
- (IV) ගලෙහි පහිටි ස්වභාවය අනුව අධිඋන්නත ශිල්ප ක්‍රමයට ප්‍රතිමා සම්පිණ්ඩනය කර ඇත.

20. පහත රට සිතුවම් සම්ප්‍රධායට හා උවරට සම්ප්‍රධායට අයත් පොදු ලක්ෂණක් වනුයේ.

- (I) පර්යාලෝක් රීතීන් පෙන්වීමට උත්සහ දැරීමයි
- (II) පසුබිම සඳහා අළු, කළු , තදතිල වැනි වර්ණ භාවිතා කිරීමයි .
- (III) සමස්ත යංචනය තුළ පරිමාණය හා පර්යාලෝක ලක්ෂණ රීතීන් නොසැලකීමයි
- (IV) සිතුවම් තුළ සමකාලීන අත්දැකීම් හා ද්‍රව්‍ය නිරූපනය කිරීමට ගත උත්සහයයි.

• අංක 21 සිට 25 දක්වා කෙක් දී රූපසටහන් කොටස්වලට සමීප සම්බන්ධ තාවයක් දක්වන රූපසටහන ඉදිරියෙන් ඇති A, B, C, D, E යන ඒවා අතුරෙන් කෝරා, එහි අක්ෂරය තිත් ඉර මත ලියන්න.

21.



(.....)



A

22.



(.....)




B

23.



(.....)



C

24.



(.....)




D

25.



(.....)



E

• පහත සනඳහන් ප්‍රකාශ හරිනම් හරි ලකුණද වැරදිනම් වැරදි ලකුණද අදාළ හිස්තැන මත යොදන්න

- 26. වෙස්සන්තර ජාතකයේ වෙස්සන්තර රජු ඇලි අතු දන්දීම දැක්වෙන චිත්‍රය මැදවෙල විහාරයේ විශිෂ්ට නිර්මාණයක් ලෙස සැලකෙන්නේ ඇතුන්ගේ සජීවී චලන ලක්ෂණ හා රිද්මය නිරූපණය කිරීම හේතුවෙනි. ( )
- 27. ඉන්දියාවේ මහබලි පුරම් හී ආකාශ ගංගා රෝහනය කැටයමට බොහෝ සෙයින් සමාන ලක්ෂණ රජ පවුල කැටයමේ දක්නට ලැබේ. ( )
- 28. දළදා මාලිගයේ පත්තිරිප්පුව නිර්මාණය කිරීමේ ගෞරවය හිමිවන්නේ දේවේන්ද්‍ර මූලාචාරී නම් ශිල්පියා හටය. මඟුල් මඩුව, පත්තිරිප්පුව, විජයෝත් පාය, උල්පැන්ගේය, මාලිගා සංකීර්නයටම අයත් ගෘහ නිර්මාණ අංගයන්ය. ( )
- 29. හුණු බිත්තිය මනා ලෙස සකස්කර ප්‍රෙස්කෝ සිකෝ ක්‍රමයට එනමුල් වර්ණ භාවිතා කරමින් අගස්තියර් හා විනයාගර් නම් සිතුවම් පෙරිය කම්බි පුඬුමනියම් ශිල්පිය විසින් ඉනුවිල් පරරාස සේකර කෝවිල් නිර්මාණය කරති තිබේ. ( )
- 30. සුමන දිසානායක සහ වෛනිස්වරම් සිව පුඬුමනියම් සනිදර්ශන සිතුවම් සඳහා දායකත්ව සැපයූ ශිල්පීන්ය. ( )

• අංක 26 සිට 30 තෙක් ඇති වචන වල අර්ථය පැහැදිලි වත් සේ සම්පූර්ණ වාක්‍ය බැඟින් ලියන්න.

- 31. අල්පතාව - .....
- 32. ගෝපුර - .....
- 33. ටෙම්පරා - .....
- 34. සම භංග - .....
- 35. ඒ මාර්ක් - .....

• පහතින් දී ඇති චිත්‍රය හඳුනාගෙන එහි කලාත්මක අගය විග්‍රහ කෙරෙන පරිදි අංක 36 සිට 40 තෙක් දී ඇති උප මාතෘකාවලට අදාළ ව අර්ථවත් වාක්‍ය පහක් ලියන්න.



- 36. ශිල්පියා .....
- 37. කේමාව .....
- 38. ආභාෂය .....
- 39. මාධ්‍ය .....
- 40. කලා ලක්ෂණ .....

