





- (09) උදාර වූ හෙළ විරුවන් පිළිබඳ අභිමානයෙන් රචනා වී ඇති සරල ගීතයකි.
 (1) රුවන් නිදන හෙළ බිමයි (2) රත්න දීප ජන්ම භූමි
 (3) මගේ රටට දළඳා හිමි සරණයි (4) තෙදිනි විරාජ
- (10) සිතාරය හා එස් රාජයේ දැකිය හැකි පොදු ලක්ෂණයකි.
 (1) තත් 7කින් යුක්ත වීම
 (2) මීශ්‍රාබයෙන් වාදනය කිරීම
 (3) ප්‍රධාන තන මන්ද්‍ර 'ම' ස්වරයට සුසර කිරීම
 (4) තුම්බාව දූවයෙන් නිර්මාණය කිරීම
- (11) තබ්ලාවක කොටස් තුනකි
 (1) දාණ්ඩ්, තරප්, තුම්බා (2) ගව්වා, බද්ඩ්, වාන්ට්
 (3) මීශ්‍රාබ්, කුණ්ඩ්, තත් (4) සාහි, ලවය, මංකා
- (12) මහනුවර රජවාසල 'කවිකාර මඩුව' කේන්ද්‍රකොට බිහිවූ ගායනා කීපයකි.
 (1) නූර්ති, නාඩගම්, කෝලම් (2) වන්තම්, ප්‍රශස්ති, නූර්ති
 (3) වන්තම්, ප්‍රශස්ති, හටන් ගී (4) නාඩගම්, විරිදු, රබන්
- (13) උකුසා වන්තම සහ නොනෙදී වන්තම සම්බන්ධ නිවැරදි ප්‍රකාශය වන්නේ,
 (1) වන්තම් දෙකම පහතරට වන්තම් වේ
 (2) වන්තම් දෙක සඳහා දවුල වාදනය කරයි
 (3) උකුසා වන්තම මහ තනි තිතටද නොයදී වන්තම මැදුම් මහ දෙතිතටද ගැයේ
 (4) උකුසා වන්තම උඩරට වන්තමකි. නොයදී වන්තම පහතරට වන්තමකි
- (14) 'තෙදිනි විරාජ රුවිනි විරාජ' ගීතය සඳහා ආභාෂය ලබා ඇති ගායන විශේෂය වන්නේ,
 (1) ප්‍රශස්ති ගී (2) වන්තම් (3) නූර්ති ගී (4) නාඩගම් ගී
- (15) ප්‍රථම සිංහල නූර්තියෙහි පුරෝගාමියකු ලෙස අප අගය කළ යුතු ලාංකිකයෙකි
 (1) ජෝන්ද සිල්වා මහතා (2) වාල්ස් ඩයස් මහතා
 (3) සී. දොන්. බස්තියන් මහතා (4) කේ. එම් බලිව්වාලා මහතා
- (16) මද්දලයෙන් වාදනය කළ හැකි තාලයකි
 (1) දාදරා (2) කෙහෙර්වා (3) මහතනිතින (4) තංගපාට
- (17) 'ස්වර්ණා...රන් පට සළඹ ඉඟ ඇඳ...' යන ගීතය ඇතුලත් සිංහල නාඩගමකි.
 (1) බැලසන්ත නාඩගම (2) ඇහැලේපොල නාඩගම
 (3) ස්වර්ණතිලකා නාඩගම (4) වෙස්සන්තර නාඩගම
- (18) මාත්‍රා දෙකේ රිද්ම රටාවකි
 (1) $x - - | x - - |$ (2) $| x \times x | x \times x |$
 (3) $x - x | x - x |$ (4) $x - | x \times x$

- (19) බටහිර සංගීතයේ දී ග්‍රේට් ස්ටාෆ් (Great Staff) එකක රේඛා ගණන කොපමණ ද?
 (1) 10 කී (2) 9 කී (3) 5 කී (4) 4 කී

- (20) බටහිර සංගීත ප්‍රස්තාරයක ව්‍යුහලේ ක්ලේෆ් (Treble Clef) සංකේතය නිවැරදිව දැක්වෙන්නේ,
 (1)  (2)  (3)  (4) 

(ලකුණු 1 බැගින් 20)

II කොටස

♦ පළමු ප්‍රශ්නය ඇතුළුව ප්‍රශ්න තුනකට පිළිතුරු සපයන්න.

- (01) (1) මෙම ස්වර කොටස් හඳුනා ගනිමින්, ඊට අදාළවන රාගය නම් කරන්න.
 A ග, මරි, ගපධනි, සිනිධප, මගරිස
 B ගපධසි, රිසිධප, සිපධප, ගරිස
 (2) A රාගයෙහි ආරෝහණ, අවරෝහණ ස්වර ලියන්න.
 (3) B රාගයේ සර්ගම් ගීතයේ ස්ථායී කොටස ලියන්න. (ලකුණු 10)
- (02) (1) අහස පුරා තාරකා.... මෙම ගී පාදය තාලානුකූලව ප්‍රස්තාර කරන්න. (ලකුණු 02)
 (2) එම ප්‍රස්තාරයට ගැලපෙන හින්දුස්ථානී තාලය නම් කර එම තාලය විභාග කරන්න. (ලකුණු 04)
 (3) එම ගී පාදයට කාරි රාගයේ ස්වර යොදා තනුවක් නිර්මාණය කරන්න. (ලකුණු 04)
- (03) (1) පහත දැක්වෙන්නේ නූර්ති සහ නාඩගම් රංග ශෛලීන්ගේ සුවිශේෂ ලක්ෂණ කිහිපයකි. එම කරුණු නිවැරදිව තෝරා වගුගත කරන්න.
 A පොතේ ගුරු, බහුමුතයා වැනි වර්ත
 B දෙබස් ගීත ස්වරයෙන් කීම
 C හින්දුස්ථානී රාගධාරී තනු
 D ශෛලිගත සම්ප්‍රදාය
 E සර්පිනාව, වයලීනය භාවිතය
 F මද්දල දෙකක් වාදනය කිරීම

නූර්ති	නාඩගම්

(ලකුණු 06)

- (2) නූර්ති ගීතයක ස්ථායී කොටසක් ලියන්න. (ලකුණු 04)

(04) (1) පි න ව න | දු වු ද න | සෑ s s s | ම s s s | මෙහි සඳස්මත් ගණන හා ගිමත් ගණන ලියන්න.

(ලකුණු 02)

(2) "බුද්ධං සරණේ සිරස දරාගෙන" මෙම කුන්සරණේ ගී පාදය ගායනය කරන ආකාරය අනුව ප්‍රස්තාර කරන්න.

(ලකුණු 04)

(3) සයනි පැදි සහ නියනි පැදි සඳහා නිදර්ශන ගීත පාද 2ක් ලියන්න.

(ලකුණු 04)



(1) ඉහත කාලය නම් කරන්න.

(ලකුණු 01)

(2) 1 - 5 දක්වා අංකනය කර ඇති සලකුණු පිළිවෙලින් නම් කරන්න.

(ලකුණු 05)

(3) 1 සහ 2 අංක අනුව කියවෙන සංකේතයන් කෙටියෙන් හඳුන්වන්න.

(ලකුණු 04)